



Chào mừng các em đến  
với tiết Toán

# Nhím Nâu Vượt Đường



## Cách chơi

- Để giúp nhím nâu vượt qua con đường đầy khó khăn trở về với ngôi nhà của mình.
- Các em học sinh sẽ trả lời từng câu hỏi tương ứng với từng chương ngại vật trên đường.
- Chúc các em loại bỏ được nhiều chương ngại vật.







## Câu hỏi số 1

$$15 - 3 - 6$$

A. 6

C. 5

B. 7

D. 4

QUAY LẠI



## Câu hỏi số 2



A.12

C.11

B. 13

D.14

QUAY LẠI



## Câu hỏi số 3



A.13

C. 15

B.12

D.14

QUAY LẠI



## Câu hỏi số 4



A.5

C.7

B.9

D.8

QUAY LẠI



# ***Bài 15:*** **Ki-lô-gam**



# Tiết 2



## Ki-lô-gam




Con sóc cân nặng bằng 1 quả bưởi.

Đây là quả cân 1 ki-lô-gam:



Ki-lô-gam viết tắt là kg.





Hộp sữa cân nặng 1 kg.



Túi gạo cân nặng 2 kg.



hoạt động

1 Đ, S ?

- a) Quả bóng nhẹ hơn 1 kg.
- b) Nải chuối nặng hơn 1 kg.
- c) Quả bưởi cân nặng 1 kg.
- d) Quả bóng nặng bằng quả bưởi.
- e) Nải chuối nặng hơn quả bưởi.


Đ

Đ

Đ

S

Đ



## 2 Đọc cân nặng của mỗi quả hoặc đồ vật

điền đây.



Bí đỏ cân nặng 2kg

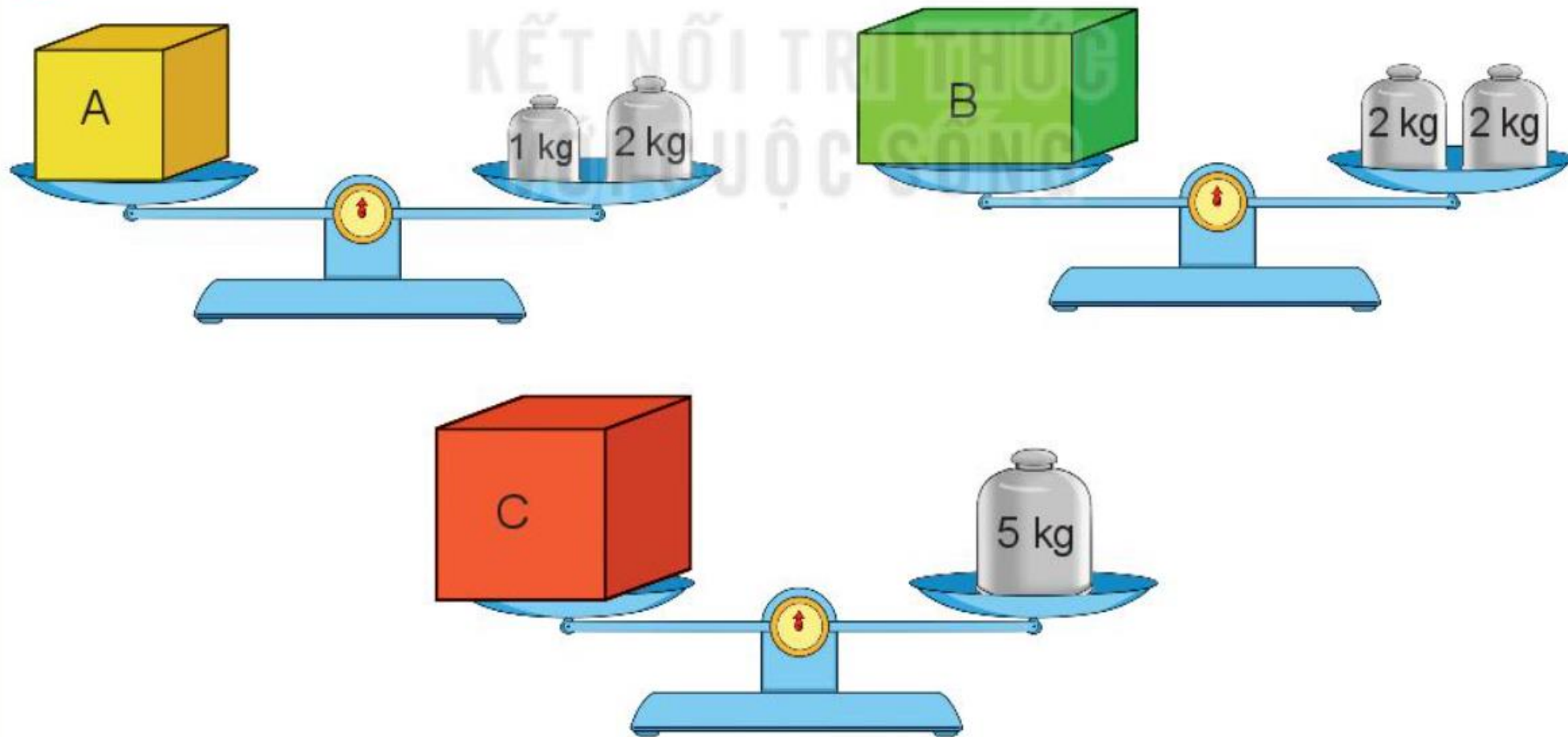
Lọ đường cân nặng 1kg

Quả mít cân nặng 3kg

Bao gạo cân nặng 10kg

Bột mì cân nặng 5kg

**3** Quan sát tranh rồi trả lời.



a) Số ?

Hộp A cân nặng **3** kg. Hộp B cân nặng **4** kg. Hộp C cân nặng **5** kg.

b) Hộp nào nặng nhất? Hộp nào nhẹ nhất?

Hộp C nặng nhất, hộp A nhẹ nhất

# CHÀO TẠM BIỆT

